

PROVA DI COMPETENZA DI MATEMATICA PER LA CLASSE SECONDA - Ottobre




**TITOLO PROVA: PER ANDARE A SCUOLA**

**Nomi redattori:** Bianca Sena coordinatore

Simonetta Biscotto, Raffaella Gentile, Ronti Cristina, Milena Belli, Barbara Cesarolo, Caterina Ciri, Giuseppina Fiorellino, Simona Giacinti, Dello Ioio Carmela, M. Antonietta Ilari, Amelia Sassolino, Marianna Di Bello.





<p><b>Disciplina</b>MATEMATICA</p> <p><b>Ordine e classe</b>SP – II Ottobre</p> <p><b>Competenze</b> Rilevare, confrontare e analizzare dati significativi, utilizzando in modo consapevole rappresentazioni grafiche di oggetti matematici e strumenti di calcolo.</p> <p><b>Scopo della prova</b>Certificare la competenza al termine della classe seconda.</p> <p><b>Punteggio</b>Ogni risposta corretta vale 2 punti. Le risposte sono in tutto 6. Si valuta in base a un punteggio totale pari a 12. La risposta aperta ottiene un punteggio di “0” quando è giudicata errata; di “1” quando è giudicata in parte errata ed in parte no; di “2” quando è giudicata corretta. La scala di codificazione è riportata in basso.</p>						
<b>Punti</b>	1 - 2	3 - 4	5 - 6	7 - 8	9 - 10	11 - 12
<b>Voto in decimi</b>	5	6	7	8	9	10
<b>Livello globale di competenza</b>	<b>BASE</b>		<b>INTERMEDIO</b>		<b>AVANZATO</b>	
<b>Durata</b>	2 ore se unita ad altre prove					

INDAGINE : “ COME SONO VENUTO A SCUOLA OGGI”



www.infinziaweb.it

IL 22 APRILE 2016 GLI ALUNNI DELLA CLASSE IIB DELLA SCUOLA  
“LEONARDO DA VINCI” HANNO SVOLTO UN’INDAGINE SU COME SONO  
VENUTI A SCUOLA OGGI. ERANO TUTTI PRESENTI IN CLASSE.

A PIEDI	
IN SCUOLABUS	
IN AUTOMOBILE	
IN BICICLETTA	



UN ALUNNO

**Quesito n. 1**

RISPONDI METTENDO UNA X

- LA MAGGIOR PARTE DEI BAMBINI E DELLE BAMBINE E' ANDATA A SCUOLA .....



A PIEDI



IN AUTOBUS



IN AUTOMOBILE



IN BICICLETTA

COMPLETA LE FRASI

**Quesito n. 2**

QUESTA INDAGINE E' STATA COMPIUTA IL

.....

**Quesito n. 3**

IL NUMERO DEGLI ALUNNI CHE SONO VENUTI IN AUTOMOBILE

E' .....

**Quesito n. 4**

IL NUMERO DEGLI ALUNNI PRESENTI A SCUOLA QUEL GIORNO

E' .....

**Quesito n. 5**

QUAL E' IL MEZZO MENO USATO?

.....

**Quesito n. 6**

QUANTI ALUNNI HANNO PARTECIPATO ALL'INDAGINE?

.....